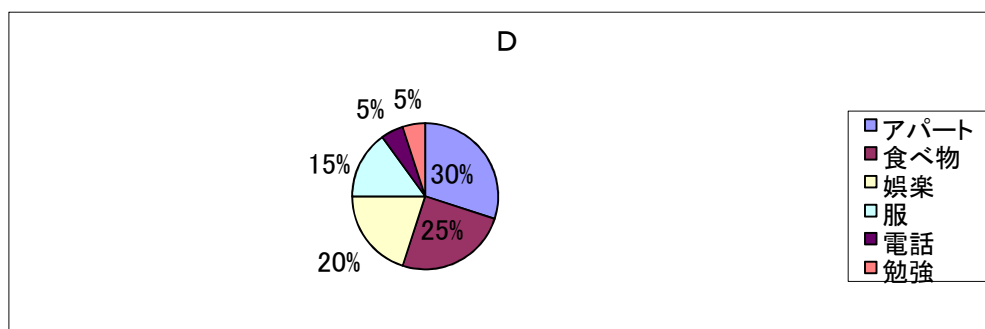
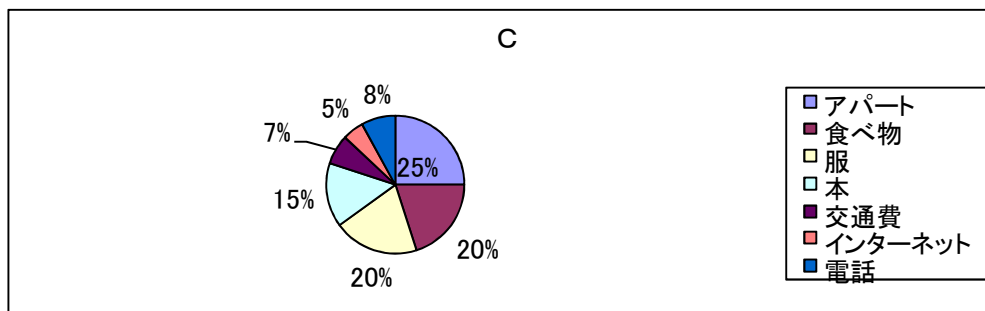
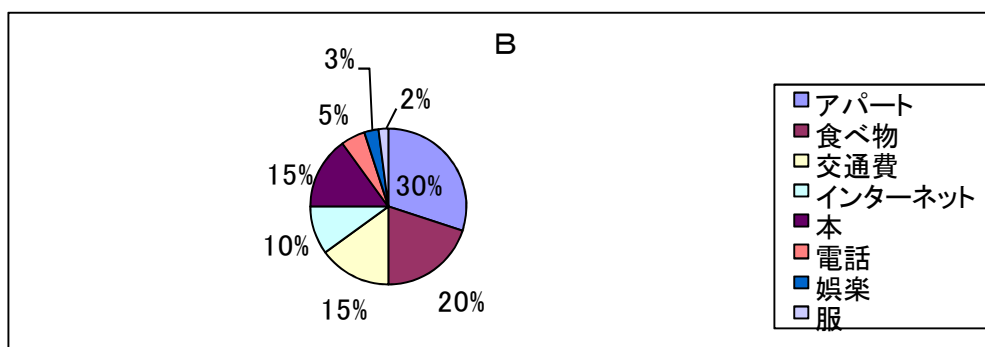
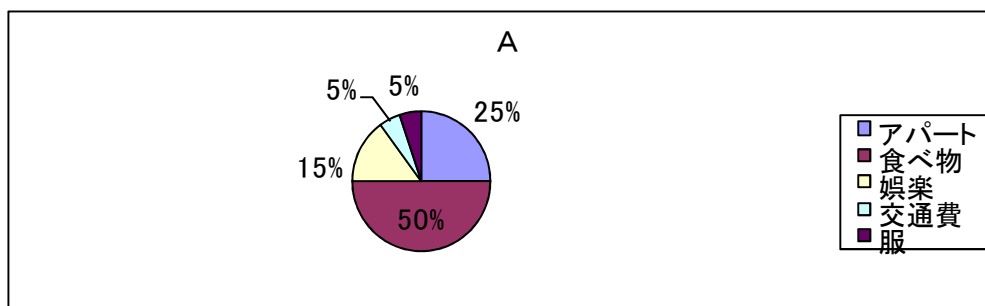


2	一ヶ月の生活費	07:24
----------	----------------	--------------

有四個人分別描述了自己一個月生活費的開銷，他們所描述的內容，分別是哪個統計圖表呢？

1 さとう	2 すずき	3 いるか	4 けんじ



2	一ヶ月の生活費	07:24
----------	----------------	--------------

有四個人分別描述了自己一個月生活費的開銷，他們所描述的內容，分別是哪個統計圖表呢？

1 さとう	2 すずき	3 いるか	4 けんじ
C	D	B	A

